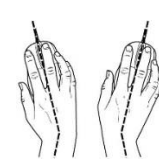

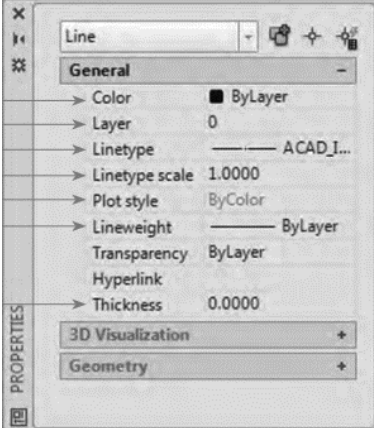


1	از این دست عملیات می توان به نوشتن توضیحات اضافی ، تفکیک رنگی و انواع حالت خطوط و اندازه گذاری اشاره کرد؟	
2	این روش جایگزینی برای ماوس است که هم سرعت شما را در کشیدن نقشه زیاد می کند هم باعث کاهش درد مچ می شود؟ الف) استفاده از کلید Tab ب) استفاده از کلید Space ج) استفاده از کلیدهای جهتی د) استفاده از کلید های میان بر	
3	باید هنگام کار با صفحه کلید، ساعد و بازوها زاویه ای بین تا درجه ایجاد کنند؟ الف) 60 تا 180 ب) 45 تا 90 ج) 80 تا 100 د) 45 تا 95	
4	کدام گزینه نحوه فرارگیری صحیح دست روی صفحه کلید چگونه باید باشد؟ الف)  ب)  ج)  د) 	
5	برای نوشتن در اتوکد مثل نوشتن در کادر و جدول ها و همچنین توضیحات اضافی از کدام ابزار استفاده می کنیم؟ الف) Description ب) Multiline Text ج) Text د) Texture	
6	نوشتن به صورت ساده و بدون اعمال تغییرات در حد یک متن یک خطی مربوط به کدام گزینه است؟ الف) Multiline Text ب) Single Text ج) Single-Line Text د) Line Text	
7	ابزار کامل تری است و میتوان از طریق آن نه تنها کلمات بلکه جمالت را با ویرایش های مختلف و همچنین پاراگراف بندی ارائه کرد؟ الف) Single-Line Text ب) Text ج) Multiline Text د) Multi-Line Text	
8	برای مدیریت آنچه ترسیم شده باید چه ویژگی هایی را به هر موضوع اختصاص داد؟ الف) رنگ موضوع ، افکت به موضوع، متن ب) رنگ، نوع خط، رنگ پس زمینه ج) رنگ موضوع، کیفیت موضوع، نوع خط د) رنگ موضوع، ضخامت خط موضوع، نوع خط موضوع	
9	در اتوکد برای دسترسی به ویژگی های بیشتر از کدام دستور استفاده می کنیم؟ الف) modify ب) justify ج) Other د) Properties	

<p>در پنجره زیر، کدام گزینه رنگ نهایی در چاپ را مشخص می کند؟</p>	<p>10</p>
 <p>الف) Color ب) Thickness ج) Plot Style د) Layer</p>	
<p>در اتوکد اگر بخواهیم موضوعات را دسته بندی و تغییرات را به یکباره اعمال کنیم از کدام ابزار باید استفاده کرد؟</p>	<p>11</p>
<p>هر الیه می تواند برای تفکیک بهتر یک داشته باشد؟</p> <p>الف) نام ب) توضیح ج) عنوان د) زیر الیه</p>	
<p>در صورتی که الیه شود دیگر دیده نمی شود و نمی توان اجزای داخل آن را تغییر داد؟</p> <p>الف) غیر فعال ب) خاموش ج) قفل د) فعال</p>	<p>13</p>
<p>در این حالت الیه غیر قابل تغییر است و به صورت کم رنگ قابل دیدن است؟</p> <p>الف) فعال یا غیر فعال ب) خاموش یا روشن ج) قفل یا باز بودن د) حالت چاپ</p>	<p>14</p>
<p>هر الیه یک دارد که تمام اجزای داخل آن در این خاصیت و خاصیت های دیگر مشترک هستند؟</p> <p>الف) عنوان ب) نوع خط ج) رنگ د) استایل</p>	<p>15</p>
<p>در اتوکد به صورت پیش فرض هر موضوع هم رنگ چه چیزی است؟</p> <p>الف) پس زمینه برنامه ب) اسالیدی که نقشه در آن ترسیم شده ج) الیه ای که نقشه در آن ترسیم شده د) مطابق رنگ پیش فرض انتخاب شده برای برنامه</p>	<p>16</p>
<p>کدام گزینه به معنی است که شما برای الیه تان یک سری مشخصات مثل رنگ ، ضخامت ، نوع تعیین می کنید؟</p> <p>الف) ByBlock ب) ByStyle ج) ByProperties د) ByLayer</p>	<p>17</p>

<p>18</p>	<p>برای تفهیم بهتر قطعات و ایجاد تفاوت در سطوح تفکیک شده و همچنین زیبایی نقشه در اغلب مواقع از چه چیزی استفاده می‌کنیم؟</p> <p>الف) خطوط راهنما ب) هاشور ج) رنگ آمیزی د) Bold کردن قسمت های مهم</p>
<p>19</p>	<p>از دستور Hatch در اتوکد به چه منظوری استفاده می‌شود؟</p> <p>الف) بازگرداندن تنظیمات پیش فرض ب) رنگ آمیزی قسمت های مهم ج) هاشور زدن د) برش زدن قسمت های انتخاب شده</p>
<p>20</p>	<p>طبق تعریف نرم افزار اتوکد، هاشور زدن در کدام قسمت ها ممکن است؟</p> <p>الف) داخل خطوط ب) کل موضوع ج) کادرهای بسته د) الف و ج</p>
<p>21</p>	<p>معموالاً این کار بعد از ترسیم و در مرحله ارائه نقشه صورت می‌پذیرد؟</p> <p>الف) چاپ ب) اندازه گیری ج) ذخیره د) بازیابی</p>
<p>22</p>	<p>این کار با مقیاس، استانداردها و یکای ثابت انجام می‌شود؟</p> <p>الف) اندازه گیری ب) ترسیم ج) چاپ نهایی د) هاشور</p>
<p>23</p>	<p>این کار قواعدی دارد که باید به آنها مسلط باشید تا نقشه هایی که ارائه می‌کنید را همه بتوانند بخوانند؟</p> <p>الف) ترسیم ب) مختصات ج) ترسیم اشکال هندسی د) اندازه گیری</p>
<p>24</p>	<p>معموالاً در اطراف قطعات و موضوعات ترسیمی نوشته می‌شود و سعی می‌شود که خطوط راهنمای اندازه با خطوط خود شکل تداخل نداشته باشد؟</p> <p>الف) مختصات ب) نمونه ها ج) اندازه ها د) عنوان موضوع</p>

<p>کدام گزینه صحیح است؟ الف) هیچ اندازه‌ای نباید تکرار شود. ب) اندازه‌های اجسام می‌توانند تکراری باشند. ج) اندازه جسم‌های هاشور زده باید درج شود. د) در اتوکد فقط اندازه اجسام رنگ آمیزی شده نوشته می‌شود.</p>	<p>25</p>
<p>برای ایجاد در دیده شدن، ضخامت خطوط راهنمای اندازه را مقدار ممکن در نظری می‌گیرند؟ الف) زیبایی - بیشترین ب) تفکیک - کمترین ج) تنوع - باریکترین د) تشدید - ضخیم‌ترین</p>	<p>26</p>
<p>با انجام کدام کار در خطوط راهنما، ضمن ایجاد تفاوت و راحتی تشخیص این خطوط، از تداخل با خطوط اصلی جلوگیری می‌شود؟ الف) ضخامت خطوط به بیشترین حد ممکن ب) کم کردن ضخامت خط و تغییر رنگ خط اصلی با راهنما ج) ضخامت خطوط به کمترین حد ممکن د) بیشتر کردن ضخامت خط و تغییر رنگ خط اصلی با راهنما</p>	<p>27</p>
<p>در یک اندازه گذاری ساده چهار جزء وجود دارد که باید همگی خوانا و در یک قاعده رسم شوند، کدام گزینه صحیح است؟ الف) خط هادی، رنگ خط، اندازه خط، طول خط ب) طول خط، پیکان، رنگ خط، اندازه خط ج) عنوان خط، رنگ خط، اندازه خط، پیکان د) خط هادی، خود اندازه، خط اندازه، پیکان</p>	<p>28</p>
<p>گاهی می‌توان یک را به عنوان خط مبنا در نظر گرفت و اندازه‌های در راستای آن را نسبت به آن تعریف کرد؟ الف) نقطه ب) خط ج) زاویه د) مختصات</p>	<p>29</p>
<p>در کدام گزینه اندازه گذاری به روش خط مبنا به کار رفته است؟</p>	<p>30</p>
<p>الف) از یک زاویه به عنوان خط مبنا استفاده کنیم. ب) از یک نقطه به عنوان خط مبنا استفاده کنیم. ج) از یک خط به عنوان خط مبنا استفاده کنیم. د) از اندازه‌های مستقل از هم استفاده کنیم.</p>	

<p>در کدام گزینه، اندازه گذاری به روش پشت سر هم به کار رفته است؟ الف) یک خط به عنوان خط مبنا ب) معرفی اندازه های مستقل از هم ج) یک مختصات به عنوان خط مبنا د) یک اندازه به عنوان خط مبنا</p>	31
<p>کدام ابزار در قسمت Di nensi on برای اندازه گیری مستقیم مورد استفاده قرار می گیرد؟ (Angular) د) (Li near) ج) (Di ane t er) ب) (Radi us) الف)</p>	32
<p>با استفاده از کدام ابزار می توان دو سر پاره خط عمودی یا افقی را انتخاب کرده و طول آن پاره خط را مشخص کنیم؟ (Li near) د) (Di nensi on) ج) (Mdi fy) ب) (Al i gned) الف)</p>	33
<p>کاربرد دستور Al i gned در قسمت Di nensi on چیست؟ الف) اندازه کمان ب) اندازه گذاری مستقیم ج) اندازه گیری مورب د) اندازه قطر</p>	34
<p>گاهی مواقع الزم است که زاویه بین دو خط یا دو ضلع را تعیین کرد، برای این منظور از کدام دستور در بخش Di nensi on باید استفاده کرد؟ (J ogged) د) (Arc Length) ج) (Angul ar) ب) (Di ane t er) الف)</p>	35
<p>برای اندازه گیری شعاع دایره و کمان از کدام دستور در بخش Di nensi on باید استفاده کرد؟ (Di ane t er) د) (Radi us) ج) (Si des) ب) (rcl e) الف)</p>	36
<p>دستور Di ane t er در بخش Di nensi on چه کاربردی دارد؟ الف) اندازه شعاع دایره ب) اندازه محیط دایره ج) اندازه حجم دایره د) اندازه قطر دایره</p>	37

<p>38 برای مشخص کردن طول کمان از کدام دستور در قسمت Di nensi on استفاده می کنیم؟ (Arc Height) د (Arc Width) ج (Arc Length) ب (Arc) الف</p>	<p>38</p>
<p>39 برای تعیین شیوه اندازه گذاری باید از کدام دستوری استفاده کرد؟ (Di nensi on Style) د (Modify) ب (Di nensi on) الف</p>	<p>39</p>
<p>40 یکی از روش های متداول استفاده از شکل های تکراری در داخل اتوکد هست؟ الف) آرایه سازی ب) کپی ج) فرمت د) بلوک</p>	<p>40</p>
<p>41 در این مرحله از بلوک، یک شکل را با نام مشخص ترسیم کرده و با مشخصات مورد نظر ذخیره می کنیم؟ (Insert) د (Create) ج (Save As) ب (Save) الف</p>	<p>41</p>
<p>42 در این مرحله می توانیم به تعداد نامحدود از بلوک ایجاد شده یا بلوک هایی که قبال ایجاد کرده اید در نقشه فراخوانی کرده و در جای مورد نظر قرار دهید؟</p>	<p>42</p>
<p>(Insert) د (Convert Block) ج (Open Block) ب (Import Block) الف</p>	<p></p>
<p>43 با انتخاب گزینه Retain از پنجره Block Defi ni ti on چه اتفاقی برای شکل ترسیم شده در صفحه رخ خواهد داد؟ الف) به همان صورت در صفحه ترسیم باقی می ماند، فقط یک بلوک از روی آن ساخته می شود. ب) یک بلوک از روی آن ساخته شده و خود شکل حذف می شود. ج) به همان صورت در صفحه ترسیم باقی می ماند فقط رنگ آن تغییر می کند. د) شکل انتخاب شده را به یک بلوک تبدیل می کند.</p>	<p>43</p>

<p>کدام گزینه از پنجره Block Definition، شکل انتخاب شده را به یک بلوک تبدیل می کند؟</p> <p>الف) Insert Block) ج) Create to Block) ب) Convert to Block) د) To Block)</p>	<p>44</p>
<p>این گزینه از پنجره Block Definition، علاوه بر اینکه شکل مورد نظر را به بلوک تبدیل می کند از روی صفحه نیز حذف خواهد شد؟</p> <p>الف) Delete Block) د) Delete) ج) Delete Object) ب) Remove Object)</p>	<p>45</p>
<p>با این دستور و فراخوانی یک بلوک ایجاد شده، دوباره به محیط ترسیم بلوک بازمی گردید و می توانید بلوک مورد نظر را ویرایش کنید یا تغییر دهید؟</p> <p>الف) Edit) د) Edit Block) ج) Edit) ب) Option) د) Format)</p>	<p>46</p>
<p>کدام گزینه درباره بلوک ها صحیح است؟</p> <p>الف) بلوک هایی که در یک فایل ساخته می شوند به صورت فایل جداگانه باید ذخیره شوند.</p> <p>ب) بلوک هایی که در یک فایل ساخته می شوند باید به صورت فایل Template ذخیره شوند.</p> <p>ج) بلوک هایی که در یک فایل ساخته می شوند به همراه همان فایل ذخیره می شوند.</p> <p>د) بلوک هایی که در یک فایل ساخته می شوند باید به همراه همان فایل ذخیره نمی شوند.</p>	<p>47</p>
<p>کدام فرمان در اتوکد می تواند یک بلوک را به فایل بلوک تبدیل کند؟</p> <p>الف) Change Block) د) Export Block) ج) Write Block) ب) Convert Block)</p>	<p>48</p>
<p>کدام گزینه در پنجره Write Block اگر انتخاب شود، یک بلوک ساخته شده را به فایل تبدیل می کند؟</p> <p>الف) Object) د) Block) ج) Select Objects) ب) Entire Drawing)</p>	<p>49</p>
<p>با انتخاب کدام گزینه در پنجره Write Block، کل نقشه ترسیمی به صورت فایل بلوک ذخیره خواهد شد؟</p> <p>الف) Entire Drawing) د) All Drawing Block) ج) All Drawing) ب) All Block)</p>	<p>50</p>

<p>با انتخاب این گزینه در پنجره Write Block می توان تعدادی از شکل های موجود به همراه نقطه مبنای آنها انتخاب کرد و به فایل بلوک تبدیل کرد؟ (Pick Point) (Objects) (File Block) (Select Objects) الف</p>	<p>51</p>
<p>به چاپ نقشه در نرم افزار اتوکد چه گفته می شود؟ (Plot) (Print Plot) (Batch Plot) (Print) الف</p>	<p>52</p>
<p>چاپ نقشه در ابعاد بزرگتر با چه دستگاهی انجام می شود؟ (Printer) (Plotter) (Poly Copy) (Printer) الف</p>	<p>53</p>
<p>برای بایگانی و استناد بهتر به نقشه های ترسیم شده، الزم است که هر نقشه دارای باشد؟ الف) استانداردهای مشخص ب) جدول مشخصات ج) پشتیبان گیری د) نسخه ذخیره شده</p>	<p>54</p>
<p>کاغذ سفید مخصوص چاپ نقشه به اندازه یک متر مربع چه وزنی دارد؟ الف) ۱۰۰ گرم ب) ۸۰ گرم ج) ۱۲۰ گرم د) ۱۵۰ گرم</p>	<p>55</p>
<p>دو استاندارد معروف برای کاغذهای موجود در بازار برای چاپ کدامند؟ (A۰ , B۰) د (A , B) ج (A۴ , B۵) ب (A۴ , A۳) الف</p>	<p>56</p>
<p>مساحت کدام یک از استانداردهای کاغذ، یک متر مربع است؟ د) A۵ ج) A۲ ب) A۰ الف) A۱</p>	<p>57</p>

بنام خدا

WWW.IT-SCHOOL.IR

هنرستان انفورماتیک
امتحانات: نوبت دوم (خردادماه)

رشته: کلیه رشته‌ها

استاد: باغبان

پایه: ۱۰

نمونه سوالات درس: نقشه‌کشی رایانه‌ای

58	کدام پرینترها در هنگام کار گازهای خطرناک و حتی گاز اوزون را متصاعد می‌کنند؟ الف) جوهر افشان ب) سوزنی ج) لیزی د) حرارتی
59	برای گرفتن خروجی نقشه به صورت PDF از کدام گزینه در قسمت تعریف چاپگر استفاده می‌کنیم؟ (DWG to pdf) (Print to pdf) (Save to pdf) (Export to pdf)
60	اطمینان از تهیه و تولید کال و خدمات طبق استانداردهای تعیین شده را چه گویند؟ الف) مشتری مداری ب) مدیریت ج) کنترل کیفیت د) کارایی بال

WWW.IT-SCHOOL.IR

بنام خدا

WWW.IT-SCHOOL.IR

هنرستان انفورماتیک
امتحانات: نوبت دوم (خردادماه)

رشته: کلیه رشته‌ها

استاد: باغبان

پایه: ۱۰

نمونه سوالات درس: نقشه‌کشی رایانه‌ای

پاسخنامه

سوال	جواب	سوال	جواب	سوال	جواب
1	ج	21	ب	41	ج
2	د	22	الف	42	د
3	ج	23	د	43	الف
4	ب.ب	24	ج	44	ب
5	ج	25	الف	45	ج
6	ب.ب	26	ب.ب	46	د
7	ج	27	ج	47	ج
8	د	28	د	48	ب
9	الف	29	ب	49	ج
10	ج	30	ج	50	د
11	د	31	ب	51	ج
12	ج	32	ج	52	د
13	ب	33	د	53	ج
14	ج	34	ج	54	ب.ب
15	ب	35	ب	55	ب
16	ج	36	ج	56	ج
17	د	37	د	57	ب
18	ب	38	ب	58	ج
19	ج	39	ج	59	د
20	د	40	د	60	ج